






Hudobné pojmy - kvíz č. 1

1. Notová osnova má
- a) 6 čiar a 5 medzier
 - b) 5 čiar a 4 medzery
 - c) 5 čiar a 5 medzier
2. Na začiatok notovej osnovy píšeme
- a) flautový kľúč
 - b) klavírny kľúč
 - c) husľový kľúč
3. Nota celá znie
- a) na štyri doby
 - b) na jednu dobu
 - c) na dve doby
4. Ktoré noty sú zapísané do notovej osnovy?
- 
- a) c¹, d¹, e¹
 - b) c¹, e¹, g¹
 - c) d¹, g¹, e¹
5. Čo znamená označenie $\frac{2}{4}$?
- a) takt dvojštvrtový
 - b) takt štvorštvrtový
 - c) takt štvorpolový
6. Táto nota  je
- a) celá, na štyri doby
 - b) polová, na dve doby
 - c) štvrtová, na jednu dobu
7. Na prvej čiare leží nota
- a) c¹
 - b) g¹
 - c) e¹
- 
8. V akom poradí sú pomlčky zapísané do notovej osnovy?
- 
- a) štvrtová, polová, celá
 - b) celá, polová, štvrtová
 - c) polová, celá, štvrtová
9. Táto nota  je
- a) celá, na štyri doby
 - b) polová, na dve doby
 - c) štvrtová, na jednu dobu
10. Na tretej čiare leží nota
- a) a¹
 - b) e¹
 - c) h¹
- 